


Check questionnaires

Φίλτρο Τεστ


Κατηγορία Εκδοχή Εφαρμογή φίλτρου

1. Οι 200 μαθητές ενός γυμνασίου ερωτήθηκαν σε έρευνα με σκοπό τη συλλογή δημογραφικών δεδομένων. Παρακάτω φαίνονται κάποια από τα αποτελέσματα. Κάποιοι από τους ερωτηθέντες δεν απάντησαν. Πόσοι μαθητές και σε τι ποσοστό δεν θέλησαν να απαντήσουν στην έρευνα;


Ερωτηθέντες	Συχνότητα	Ποσοστό %
Αγόρια		40
Κορίτσια	110	
Δεν απάντησαν		
Σύνολο	200	100

- A. 10 και 34%
- B. 10 και 5% 
- C. 110 και 55%
- D. Κανένα από τα παραπάνω

2. Στο σχολικό διάλειμμα η Κατερίνα και οι φίλες της παίζουν με ένα ζάρι. Ποια η πιθανότητα να πετύχει η Κατερίνα το νούμερο 3 με την πρώτη φορά;


- A. 2/6
- B. 1/6 
- C. 5/6
- D. Κανένα από τα παραπάνω

3. Ο μέσος όρος της βαθμολογίας 25 μαθητών της Α' τάξης Γυμνασίου στη Στατιστική ήταν 18,8. Ποιο είναι το άθροισμα της βαθμολογίας των μαθητών;


- A. 43,8
- B. 470 
- C. 380

D. Δεν έχω αρκετά στοιχεία για να το υπολογίσω


4. Η Β΄ τάξη Γυμνασίου ενός σχολείου σε ένα απομακρυσμένο νησί έχει 10 μαθητές. Από αυτούς τα 2 είναι αγόρια που φορούν γυαλιά, το 1 είναι αγόρι που έχει κόκκινη τσάντα και τα 7 είναι κορίτσια με κόκκινη τσάντα. Ο καθηγητής σηκώνει ένα παιδί στον πίνακα. Ποια η πιθανότητα των δύο ενδεχομένων, α) $P(A)$: να είναι αγόρι που φορά γυαλιά β) $P(K)$: να είναι κορίτσι που έχει κόκκινη τσάντα;

- A. $P(A)=2/3$ και $P(K)=7/10$
B. $P(A)=2/10$ και $P(K)=7$
C. $P(A)=0,2$ και $P(K)=0,7$ 
D. κανένα από τα παραπάνω


5. Η Β΄ τάξη Γυμνασίου ενός σχολείου σε ένα απομακρυσμένο νησί έχει 10 μαθητές. Από αυτούς τα 2 είναι αγόρια που φορούν γυαλιά, το 1 είναι αγόρι που έχει κόκκινη τσάντα και τα 7 είναι κορίτσια με κόκκινη τσάντα. Ο καθηγητής σηκώνει ένα παιδί στον πίνακα. Ποια η πιθανότητα, $P(M)$, το παιδί να έχει κόκκινη τσάντα;

- A. $P(M) = 9/10$
B. $P(M) = 2/3$
C. $P(M) = 8/10$ 
D. Κανένα από τα παραπάνω


6. Το 60% των γυναικών και το 85% των ανδρών μιας πόλης διαβάζουν εφημερίδα. Εάν ο αριθμός των γυναικών είναι διπλάσιος από αυτόν των ανδρών, τι ποσοστό του πληθυσμού της πόλης αυτής διαβάζει εφημερίδα;

- A. 53,33%
B. 41,55%
C. 68,33% 
D. Κανένα από τα παραπάνω

7. Επιλέγουμε έναν πραγματικό αριθμό από το διάστημα $[4,10]$. Η πιθανότητα αυτός ο αριθμός να είναι μικρότερος από 6 είναι:


- A. $1/2$
B. $2/6$ 
C. $1/3$
D. Κανένα από τα παραπάνω

8. Υποδείξτε ποια από τις παρακάτω σχέσεις είναι σωστή, όπου τα A και B είναι δύο ενδεχόμενα.

- A. $P(A \cap B) \geq P(A)$
- B. $P(A \cup B) \leq P(B)$
- C. $P(A \cup B) \leq P(A) + P(B)$ 
- D. $P(A) + P(B) \leq P(A \cap B)$

9. Για την αντιμετώπιση μιας ασθένειας, εφαρμόστηκε μια νέα θεραπεία σε έναν συγκεκριμένο αριθμό ατόμων και τα αποτελέσματά της συγκρίθηκαν με τα αποτελέσματα μιας προηγούμενης θεραπείας. Η πιθανότητα να έχει θεραπευτεί ένα τυχαία επιλεγμένο άτομο είναι:

ΘΕΡΑΠΕΙΑ	ΘΕΡΑΠΕΥΜΕΝΟΙ	ΜΗ ΘΕΡΑΠΕΥΜΕΝΟΙ	ΣΥΝΟΛΟ
Νέα μέθοδος θεραπείας	60	21	81
Προηγούμενη μέθοδος θεραπείας	43	36	79
ΣΥΝΟΛΟ	103	57	160

- A. 103/160 
- B. 57/160
- C. 60/103
- D. Κανένα από τα παραπάνω

10. Σε μια χώρα το 48% του πληθυσμού είναι άνδρες. Είναι γνωστό ότι το 5% των ανδρών και το 12% των γυναικών είναι πρεσβύωτες. Τί ποσοστό του πληθυσμού της χώρας είναι πρεσβύωτες:

- A. 8,64% 
- B. 6,6%
- C. 10,3%
- D. Κανένα από τα παραπάνω

Τεστ 2 – Κατηγορία: Γυμνάσια (Version 1)

Check questionnaires

Φίλτρο Τεστ

Κατηγορία Εκδοχή Εφαρμογή φίλτρου

Για τις απαντήσεις, ανατρέξτε στην [ιστοσελίδα της ΕΛΣΤΑΤ](#) , στην [ιστοσελίδα της Eurostat](#) ή στο [δημοσίευμα Η Ζωή των ανδρών και των γυναικών στην Ευρώπη](#)

1. Ποιος ο Δείκτης Τιμών Εκροών του ρυζιού για τους μήνες Ιανουάριο έως Ιούνιο 2017 στην Ελλάδα;

- A. 102,3
- B. 56,2
- C. 102,7
- D. Κανένα από τα παραπάνω

2. Σύμφωνα με τα στοιχεία της Ελληνικής Στατιστικής Αρχής, η συνολική αξία των εισαγωγών-αφίξεων κατά τον μήνα Σεπτέμβριο 2017 ανήλθε στο ποσό των:

- A. πάνω από 2.000,8 εκατ. ευρώ
- B. 3.747,2 ευρώ
- C. 3.747,1 εκατ. ευρώ
- D. κανένα από τα παραπάνω

3. Σύμφωνα με τα στοιχεία της Ελληνικής Στατιστικής Αρχής από τον Σεπτέμβριο του 2011 έως τον Οκτώβριο του 2012, κάθε νοικοκυριό της χώρας καταναλώνει

- A. 13.994kWh μηνιαίως
- B. 13.994kWh ετησίως
- C. 13.000kWh
- D. Κανένα από τα παραπάνω

4. Σύμφωνα με τα στοιχεία της Ελληνικής Στατιστικής Αρχής, για το έτος 2016 οι γεννήσεις στην Ελλάδα ανήλθαν σε:

- A. 92.898
- B. 47.882 αγόρια και 45.016 κορίτσια
- C. το a και το b
- D. κανένα από τα παραπάνω

5. Στην Ειδική Έρευνα για τη μετάβαση από την εκπαίδευση στην αγορά εργασίας (Ad hoc-module) έτους 2000 της Ελληνικής Στατιστικής Αρχής, το δείγμα που ερευνήθηκε ήταν:

- A. 7.656 άτομα
- B. Άτομα ηλικίας 15-35 ετών που είχαν ολοκληρώσει τις σπουδές του μετά το 1990
- C. το a και το b
- D. κανένα από τα παραπάνω

6. Σύμφωνα με τα στοιχεία της Ελληνικής Στατιστικής Αρχής, για το έτος 2014, οι αναγνώστες – επισκέπτες των βιβλιοθηκών ήταν

- A. πάνω από 3.000.000.
- B. 8,7% του πληθυσμού
- C. 2.000.000
- D. 4.848.431

7. Σύμφωνα με τα στοιχεία της Ελληνικής Στατιστικής Αρχής, οι εγγεγραμμένοι μαθητές στη Δευτεροβάθμια Γενική Εκπαίδευση (Γυμνάσια και Λύκεια) μεταβλήθηκαν το σχολικό έτος 2014/2015 σε σχέση με το 2013/2014 κατά:

- A. -0,4%
- B. -0,7%
- C. +0,4%
- D. +0,7%

8. Σύμφωνα με τα στοιχεία της Ελληνικής Στατιστικής Αρχής, το έτος 2016 οι εισερχόμενοι μετανάστες ανήλθαν σε:

- A. 10.332
- B. 106.535
- C. 11.867
- D. 116.867

9. Σύμφωνα με τα στοιχεία της Ελληνικής Στατιστικής Αρχής, ο μόνιμος πληθυσμός της Ελλάδας την 1η Ιανουαρίου 2017 ήταν

- A. 10.678.193
- B. 11.768.193
- C. 11.678.193
- D. 10.768.193

10. Σύμφωνα με τα στοιχεία της Ελληνικής Στατιστικής Αρχής, την 1η Ιανουαρίου 2017, οι γυναίκες και άνδρες ηλικίας 10-14 ετών ήταν:

- A. 258.946 γυναίκες και 273.144 άνδρες

- B. 250.789 γυναίκες και 253.236 άνδρες
C. 253.236 γυναίκες και 250.789 άνδρες
D. κανένα από τα παραπάνω
-

Version 2

Check questionnaires

Φίλτρο Τεστ

Κατηγορία Εκδοχή Εφαρμογή
φίλτρου

Για τις απαντήσεις, ανατρέξτε στην [ιστοσελίδα της ΕΛΣΤΑΤ](#), στην [ιστοσελίδα της Eurostat](#) ή στο [δημοσίευμα Η Ζωή των ανδρών και των γυναικών στην Ευρώπη](#)

1. Σύμφωνα με στοιχεία που δημοσιεύει η Eurostat, το έτος 2015 στην Ισπανία, η μέση ηλικία στην οποία οι γυναίκες αποκτούν παιδί ήταν:

- A. 30,4
B. 31,3
C. 31,9
D. 29,6

2. Σύμφωνα με στοιχεία που δημοσιεύει η Eurostat, ποια χώρα της Ευρωπαϊκής Ένωσης ήταν πρώτη σε παραγωγή γάλακτος το 2016;

- A. Γαλλία
B. Ολλανδία
C. Δανία
D. Γερμανία

3. Σύμφωνα με στοιχεία που δημοσιεύει η Eurostat, το έτος 2015 στην Ευρωπαϊκή Ένωση το υψηλότερο προσδόκιμο ζωής για τις γυναίκες παρατηρείται στην:

- A. Ισπανία
- B. Ιταλία
- C. Πορτογαλία
- D. Κανένα από τα παραπάνω

4. Σύμφωνα με τα στοιχεία της Eurostat που ανακοινώθηκαν στο στατιστικό δημοσίευμα « Η ζωή των γυναικών και των ανδρών στην Ευρώπη», το ποσοστό των ατόμων που θεωρούνται υπέρβαρα (Δείκτης Μάζας Σώματος πάνω από 25) είναι υψηλότερο:

- A. Για τις γυναίκες
- B. Για τους άνδρες
- C. Και οι δύο είναι στα ίδια επίπεδα
- D. Δεν προκύπτει απάντηση από τα στοιχεία του δημοσιεύματος

5. Σύμφωνα με τα στοιχεία της Eurostat που ανακοινώθηκαν στο στατιστικό δημοσίευμα « Η ζωή των γυναικών και των ανδρών στην Ευρώπη», πόσο χρόνων εγκαταλείπουν το πατρικό τους σπίτι οι γυναίκες και οι άνδρες;

- A. Οι γυναίκες στην ηλικία των 20 ετών, οι άνδρες στα 22
- B. Οι γυναίκες στην ηλικία των 25 ετών, οι άνδρες στα 27
- C. Και οι δύο στην ηλικία των 21 ετών
- D. Κανένα από τα παραπάνω

6. Σύμφωνα με στοιχεία που δημοσιεύει η Eurostat, το έτος 2015, ποια χώρα της ΕΕ είχε τους περισσότερους γιατρούς ανά 100.000 κατοίκους;

- A. Ελλάδα
- B. Ιταλία
- C. Σουηδία
- D. Γερμανία

7. Σύμφωνα με τα στοιχεία της Eurostat, ποια χώρα της ΕΕ ήταν το 2016 στην πρώτη θέση όσον αφορά την παραγωγή τυριού;

- A. Ιταλία
- B. Γερμανία
- C. Ολλανδία
- D. Γαλλία

8. Σύμφωνα με τα στοιχεία της Eurostat που ανακοινώθηκαν στο στατιστικό δημοσίευμα « Η ζωή των γυναικών και των ανδρών στην Ευρώπη», το 2016, οι γυναίκες χρησιμοποιούσαν το διαδίκτυο περισσότερο για:

- A. On line τραπεζικές συναλλαγές
- B. Ειδήσεις
- C. Συμμετοχή σε κοινωνικά δίκτυα
- D. Τηλεφωνικές ή video κλήσεις

9. Σύμφωνα με τα στοιχεία της Eurostat που ανακοινώθηκαν στο στατιστικό δημοσίευμα « Η ζωή των γυναικών και των ανδρών στην Ευρώπη», το 2016 στην ΕΕ με μερική απασχόληση εργάζονται περισσότεροι άνδρες ή γυναίκες και σε τι ποσοστό περίπου;

- A. Γυναίκες, 77%
- B. Γυναίκες, 32%
- C. Άνδρες, 32%
- D. Άνδρες, 26%

10. Σύμφωνα με στοιχεία που δημοσιεύει η Eurostat, την 1η Ιανουαρίου 2017 η πολυπληθέστερη χώρα της ΕΕ ήταν:

- A. Ηνωμένο Βασίλειο
- B. Γερμανία
- C. Γαλλία
- D. Ιταλία

Version 3

Check questionnaires

Φίλτρο Τεστ
Κατηγορία Εκδοχή Εφαρμογή
φίλτρου

Για τις απαντήσεις, ανατρέξτε στην [ιστοσελίδα της ΕΛΣΤΑΤ](#), στην [ιστοσελίδα της Eurostat](#) ή στο [δημοσίευμα Η Ζωή των ανδρών και των γυναικών στην Ευρώπη](#)

1. Ποιος ο Δείκτης Τιμών Εκροών του ρυζιού για τους μήνες Ιανουάριο έως Ιούνιο 2017;

- A. 107,2

- B. 56,2
- C. 102,3
- D. 102,7

2. Σύμφωνα με τα στοιχεία της Ελληνικής Στατιστικής Αρχής, η συνολική αξία των εισαγωγών-αφίξεων κατά τον μήνα Σεπτέμβριο 2017 ανήλθε στο ποσό των:

- A. Πάνω από 2.000,8 εκατ. ευρώ
- B. 3.747,1 εκατ. ευρώ
- C. 3.747,2 ευρώ
- D. Κανένα από τα παραπάνω

3. Σύμφωνα με τα στοιχεία της Ελληνικής Στατιστικής Αρχής από τον Σεπτέμβριο του 2011 έως τον Οκτώβριο του 2012, κάθε νοικοκυριό της χώρας καταναλώνει:

- A. 13.000kWh
- B. 13.994kWh ετησίως
- C. 13.994kWh μηνιαίως
- D. Κανένα από τα παραπάνω

4. Σύμφωνα με τα στοιχεία της Ελληνικής Στατιστικής Αρχής, για το έτος 2016 οι γεννήσεις στην Ελλάδα ανήλθαν σε:

- A. 92.898
- B. 47.882 αγόρια και 45.016 κορίτσια
- C. 47.882
- D. Το a και το b

5. Στην Ειδική Έρευνα για τη μετάβαση από την εκπαίδευση στην αγορά εργασίας (Ad hoc-module) έτους 2000 της Ελληνικής Στατιστικής Αρχής, το δείγμα που ερευνήθηκε ήταν:

- A. 7.656 άτομα
- B. Άτομα ηλικίας 15-35 ετών, που είχαν ολοκληρώσει τις σπουδές του μετά το 1990
- C. Το a και το b
- D. Κανένα από τα παραπάνω

6. Σύμφωνα με στοιχεία που δημοσιεύει η Eurostat, το έτος 2015, ποια χώρα της ΕΕ είχε τους πιο πολλούς γιατρούς ανά 100.000 κατοίκους;

- A. Ελλάδα
- B. Ιταλία
- C. Γερμανία
- D. Σουηδία

7. Ποια χώρα της ΕΕ ήταν το 2016 στην πρώτη θέση όσον αφορά την παραγωγή τυριού;

- A. Ολλανδία
- B. Γερμανία
- C. Γαλλία
- D. Ιταλία

8. Σύμφωνα με τα στοιχεία της Eurostat που ανακοινώθηκαν στο στατιστικό δημοσίευμα «Η ζωή των γυναικών και των ανδρών στην Ευρώπη», το 2016, οι γυναίκες χρησιμοποιούν το διαδίκτυο περισσότερο για:

- A. On line τραπεζικές συναλλαγές
- B. Ειδήσεις
- C. Συμμετοχή σε κοινωνικά δίκτυα
- D. Τηλεφωνικές ή video κλήσεις

9. Σύμφωνα με τα στοιχεία της Eurostat που ανακοινώθηκαν στο στατιστικό δημοσίευμα «Η ζωή των γυναικών και των ανδρών στην Ευρώπη», το 2016 στην ΕΕ με μερική απασχόληση εργάζονται περισσότεροι άνδρες ή γυναίκες και σε τι ποσοστό περίπου;

- A. Άνδρες, 26%
- B. Άνδρες, 32%
- C. Γυναίκες, 77%
- D. Γυναίκες, 32%

10. Σύμφωνα με στοιχεία που δημοσιεύει η Eurostat, την 1η Ιανουαρίου 2017 η πολυπληθέστερη χώρα της ΕΕ ήταν :

- A. Ηνωμένο Βασίλειο
 - B. Γαλλία
 - C. Ιταλία
 - D. Γερμανία
-


Check questionnaires

Φίλτρο Τεστ


Κατηγορία Εκδοχή Εφαρμογή φίλτρου

Για τις απαντήσεις των επόμενων ερωτημάτων, ανατρέξτε στα [δημοσιευμένα infographics της ΕΛΣΤΑΤ](#).

1. Σύμφωνα με δημοσιευμένο infographic της Ελληνικής Στατιστικής Αρχής, ποιος ήταν ο κύριος τρόπος εύρεσης εργασίας μεταξύ των νέων 15-34 ετών και με τι ποσοστό;

- A. Συγγενείς , φίλοι, γνωστοί 39,9% 
- B. Επίπεδο Σπουδών, 30%
- C. Αγγελίες, 14,5%
- D. Κανένα από τα παρακάτω

2. Σύμφωνα με δημοσιευμένο infographic της Ελληνικής Στατιστικής Αρχής, τι επίπεδο εκπαίδευσης είχαν οι περισσότεροι νέοι που δεν έδωσαν απάντηση σχετικά με το πόσο χρήσιμη είναι η εκπαίδευση στην εργασία;

- A. Τριτοβάθμια εκπαίδευση
- B. Λύκειο
- C. Μέχρι Γυμνάσιο 
- D. Κανένα από τα παραπάνω

3. Σύμφωνα με δημοσιευμένο infographic της Ελληνικής Στατιστικής Αρχής, τι ποσοστό των νέων με σπουδές μέχρι και το επίπεδο του γυμνασίου θεώρησαν ότι οι γνώσεις που απέκτησαν είναι σε ελάχιστο βαθμό ή καθόλου χρήσιμες για την εργασία τους;

- A. 34,7%
- B. 36,3%
- C. 55,1% 
- D. Κανένα από τα παραπάνω

4. Σύμφωνα με δημοσιευμένο infographic της Ελληνικής Στατιστικής Αρχής, ποιες σπουδές δηλώθηκαν από το μεγαλύτερο ποσοστό νέων ως οι πιο χρήσιμες για την εργασία τους;

- A. Επιστήμες της Υγείας
- B. Οργάνωση και Διοίκηση Επιχειρήσεων, Νομικά
- C. Υπηρεσίες
- D. Επιστήμες της Εκπαίδευσης

5. Σύμφωνα με δημοσιευμένο infographic της Ελληνικής Στατιστικής Αρχής, σχετικά με την αποδοχή αλλαγής τόπου κατοικίας για την εύρεση εργασίας, οι νέοι σε ποσοστό 66,6%

- A. θα εργάζονταν σε οποιαδήποτε χώρα εντός ή εκτός της Ευρωπαϊκής Ένωσης
- B. θα μετακόμιζαν οπουδήποτε
- C. δεν θα άλλαζαν κατοικία ή θα μετακόμιζαν μόνο εντός της Ελλάδος
- D. κανένα από τα παραπάνω

6. Σύμφωνα με δημοσιευμένο infographic της Ελληνικής Στατιστικής Αρχής, ένα πολύ μικρό ποσοστό νέων δεν συνέχισαν τις σπουδές τους διότι:

- A. Το κόστος των σπουδών είναι υψηλό
- B. Οι αμοιβές που θα πάρουν στη εργασία τους δεν είναι υψηλές
- C. Δεν θεωρούν ότι τους είναι χρήσιμες οι γνώσεις που αποκτούν
- D. Κανένα από τα παραπάνω

7. Σύμφωνα με δημοσιευμένο infographic της Ελληνικής Στατιστικής Αρχής, τι ποσοστό νέων βρήκαν εργασία κατόπιν δικής τους πρωτοβουλίας να έρθουν σε επικοινωνία με κάποιο εργοδότη;

- A. 11,5%
- B. 5,1%
- C. 0,18%
- D. 18,0%

8. Σύμφωνα με δημοσιευμένο infographic της Ελληνικής Στατιστικής Αρχής, τι ποσοστό νέων δεν θέλησαν να δώσουν πληροφορίες σχετικά με τον τύπο εργασίας τους;

- A. 0,15%
- B. 30,2%
- C. 3,9%
- D. 1,5%

9. Σύμφωνα με δημοσιευμένα infographic της Ελληνικής Στατιστικής Αρχής, ποιες σπουδές έχουν τη μεγαλύτερη χρησιμότητα στην εργασία για τους περισσότερους νέους;

- A. οι Τεχνολογίες Πληροφορικής και Επικοινωνιών
- B. η Φυσική, η Χημεία, τα Μαθηματικά και οι Επιστήμες της Γη
- C. οι Υπηρεσίες
- D. κανένα από τα παραπάνω

10. Σύμφωνα με δημοσιευμένο infographic της Ελληνικής Στατιστικής Αρχής, τι ποσοστό νέων απάντησε σχετικά με το αν εργάστηκαν συνολικά ή δεν εργάστηκαν το 2016;

- A. 100%
 - B. 69,1%
 - C. 96,1%
 - D. κανένα από τα παραπάνω
-